

in collaborazione con:

italveneta
didattica
a better play

GIOCA E IMPARA CON I

REGOLI



LA SICUREZZA CONTA!




I **REGOLI ITALVENETA DIDATTICA** SONO PRODOTTI CON PLASTICA 100% ITALIANA E HANNO OTTENUTO LE CERTIFICAZIONI UNI EN 71 1,2 E 3, CHE GARANTISCONO LA **TOTALE SICUREZZA** SOTTO IL **PROFILO MECCANICO, FISICO E CHIMICO**.


QUANDO SCEGLIETE SUSSIDI DIDATTICI O GIOCATTOLI IN PLASTICA, È MOLTO IMPORTANTE VERIFICARE CHE ABBIANO OTTENUTO LE **CERTIFICAZIONI UNI EN 71-1, UNI EN 71-2 E UNI EN 71-3**): EVITERETE CHE I BAMBINI ENTRINO IN CONTATTO CON PLASTICHE FABBRICATE UTILIZZANDO PRODOTTI CHIMICI DANNOSI PER LA LORO SALUTE.

I REGOLI


COLORA OGNI **REGOLO** CON IL SUO COLORE, POI SCRIVI ACCANTO A QUANTE UNITÀ CORRISPONDE.



= 1




= ...



= ...



= ...



= ...



= ...




= ...



= ...



= ...



= ...



QUANTI SONO?


CONTA **QUANTE UNITÀ** CI SONO PER OGNI ELEMENTO.
TROVA IL REGOLO CORRISPONDENTE, POI COLORA UN
QUADRATO PER OGNI UNITÀ CON IL SUO COLORE.



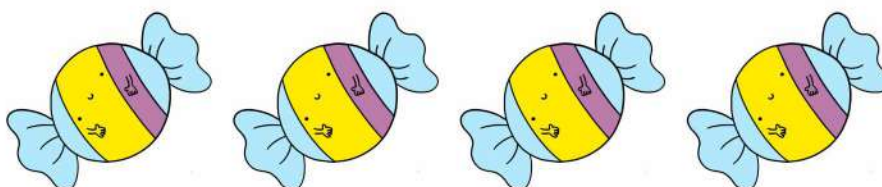
--	--	--	--	--	--	--	--	--	--



--	--	--	--	--	--	--	--	--	--



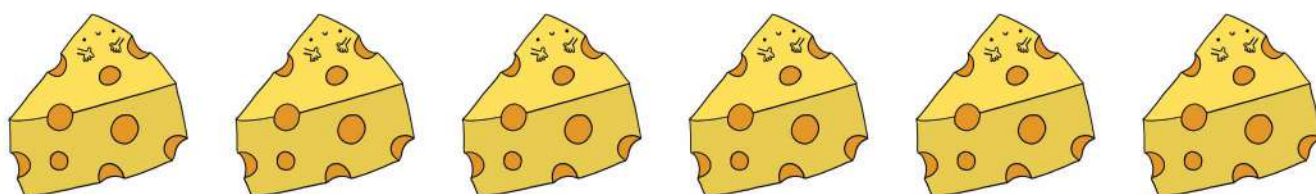
--	--	--	--	--	--	--	--	--	--



--	--	--	--	--	--	--	--	--	--

QUANTI SONO?

CONTA **QUANTE UNITÀ** CI SONO PER OGNI ELEMENTO.
TROVA IL REGOLO CORRISPONDENTE, POI COLORA UN
QUADRATO PER OGNI UNITÀ CON IL SUO COLORE.



--	--	--	--	--	--	--	--	--	--



--	--	--	--	--	--	--	--	--	--



--	--	--	--	--	--	--	--	--	--



--	--	--	--	--	--	--	--	--	--

CHE NUMERO È?

QUANTE UNITÀ VALE OGNI NUMERO? TROVA IL REGOLO CORRISPONDENTE, POI COLORA UN QUADRATO PER OGNI UNITÀ CON IL SUO COLORE.

7

--	--	--	--	--	--	--	--	--	--

3

--	--	--	--	--	--	--	--	--	--

8

--	--	--	--	--	--	--	--	--	--

4

--	--	--	--	--	--	--	--	--	--

CHE NUMERO È?

QUANTE UNITÀ VALE OGNI NUMERO? TROVA IL REGOLO CORRISPONDENTE, POI COLORA UN QUADRATO PER OGNI UNITÀ CON IL SUO COLORE.

1

--	--	--	--	--	--	--	--	--	--

5

--	--	--	--	--	--	--	--	--	--


9

--	--	--	--	--	--	--	--	--	--

6

--	--	--	--	--	--	--	--	--	--

QUANTI SONO?



CONTA **QUANTE UNITÀ** CI SONO PER OGNI ELEMENTO.
TROVA IL REGOLO CORRISPONDENTE, POI COLORA UN
QUADRATO PER OGNI UNITÀ CON IL SUO COLORE.



--	--	--	--	--	--	--	--	--	--



--	--	--	--	--	--	--	--	--	--




--	--	--	--	--	--	--	--	--	--



--	--	--	--	--	--	--	--	--	--


QUANTI SONO?



CONTA **QUANTE UNITÀ** CI SONO PER OGNI ELEMENTO.
TROVA IL REGOLO CORRISPONDENTE, POI COLORA UN
QUADRATO PER OGNI UNITÀ CON IL SUO COLORE.



--	--	--	--	--	--	--	--	--	--



--	--	--	--	--	--	--	--	--	--



--	--	--	--	--	--	--	--	--	--



--	--	--	--	--	--	--	--	--	--

